



Görsel Algı

I. Kitap

I. Kademe (1, 2, 3 ve 4. Sınıf)
Ders Kitabı



Öğrenmeye Hazırlık

I. Kademe (1, 2, 3 ve 4. Sınıf)
Ders Kitabı



Görsel Algı

I. Kitap

YAZARLAR

Prof. Dr. Emine Rüya Özmen
Öğr. Gör. Dr. Arzu Doğanay Bilgi
Arş. Gör. Gökhan Açıkgöz
Zehra Er



Editör

Prof. Dr. Emine Rya zmen

Dil Uzmanı

Afife Nurten Aytaç

Grsel Tasarım ve Resimleme

Zuhal Harputođulları

Sabri Akkerman



İSTİKLÂL MARŞI

Korkma, sönmez bu şafaklarda yüzen al sancak;
Sönmeden yurdumun üstünde tüten en son ocak.
O benim milletimin yıldızıdır, parlayacak;
O benimdir, o benim milletimindir ancak.

Çatma, kurban olayım, çehreni ey nazlı hilâl!
Kahraman ırkıma bir gül! Ne bu şiddet, bu celâl?
Sana olmaz dökülen kanlarımız sonra helâl.
Hakkıdır Hakk'a tapan milletimin istiklâl.

Mehmet Âkif ERSOY

ANDIMIZ

Türküm, doğruyum, çalışkanım.

İlkem küçüklerimi korumak, büyüklerimi saymak; yurdumu, milletimi özümnden çok sevmektir.


Ülküm yükselmek, ileri gitmektir.

Ey Büyük Atatürk!

Açtığın yolda, gösterdiğin hedefe durmadan yürüyeceğime ant içerim.

Varlığım Türk varlığına armağan olsun.

Ne mutlu Türküm diyene!



MUSTAFA KEMAL ATATÜRK



İÇİNDEKİLER

Kitabımızı tanıyalım	7
Aynı olanları bulalım.....	8
Aynı renk olanları bulalım.	26
Aynı büyüklükte olanları bulalım.....	44
Üstteki şekil ile aynı olanı göster.....	62
Aynı yönde olanları bulalım.....	80
Ayrıntısı aynı olanları bulalım.....	98
Eksik ayrıntısı aynı olanları bulalım.....	116
Ayrıntısı aynı yönde olanları bulalım.....	134
Kaynakça.....	152

KİTABIMIZI TANIYALIM



Görsel algı, görsel uyarılar yoluyla bilgi edinme ve bu bilginin yorumlanması olarak tanımlanmaktadır. Görsel algı öğrenmenin en önemli temel unsurlarından biridir. Öğretim programında yer alan görsel algı bölümündeki hedef ve hedef davranışların kazandırılmasına yönelik dört ders kitabı hazırlanmıştır. Görsel algı ders kitapları genel olarak görsel eşleme, görsel ayırt etme, sınıflandırma, örüntü, görsel bellek, görsel hafıza gibi birçok alt beceriden oluşmaktadır. Görsel Algı kitaplarında hedef ve hedef davranışlar bir bütünlük içinde ele alınmıştır.

Öğrencileri görsel algı bakımından okumaya hazırlamak amacıyla düzenlenen bu kitapta öğrencilerin görsel eşleme becerilerinin geliştirilmesini içeren etkinlikler bulunmaktadır. Kitapta; aynı nesne resimlerini gösterme, aynı renk nesne resimlerini gösterme, aynı boyutta nesne resimlerini gösterme, aynı yarı soyut resimleri gösterme, aynı konumdaki nesne resimlerini gösterme, ayrıntısı aynı olan nesne resimlerini gösterme, eksik ayrıntısı aynı olan nesne resimlerini gösterme, ayrıntısı aynı konumda nesne resimlerini gösterme hedef davranışlarına yönelik çalışmalar yer almaktadır.


Kitapta yer alan tüm çalışmalarda basitten zora doğru bir sıra izlenmiştir. Ayrıca kitapta her bir hedef davranış ile ilgili öğretim, değerlendirme ve alıştırmaya yönelik etkinlikleri yer almaktadır.



Aynı olanları bulalım.



a) Üstteki resim ile aynı olanı göster.



b) Üstteki resim ile aynı olanı göster.



Aynı olanları bulalım.



c) Üstteki resim ile aynı olanı göster.




ç) Üstteki resim ile aynı olanı göster.






Aynı olanları bulalım.



a) Üstteki resim ile aynı olanı göster.



b) Üstteki resim ile aynı olanı göster.



Aynı olanları bulalım.



c) Üstteki resim ile aynı olanı göster.



ç) Üstteki resim ile aynı olanı göster.





Aynı olanları bulalım.



a) Üstteki resim ile aynı olanı göster.



b) Üstteki resim ile aynı olanı göster.



Aynı olanları bulalım.



c) Üstteki resim ile aynı olanı göster.



ç) Üstteki resim ile aynı olanı göster.





Aynı olanları bulalım.



a) Üstteki resim ile aynı olanı göster.




b) Üstteki resim ile aynı olanı göster.



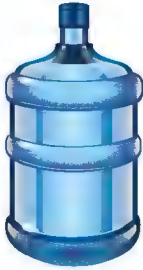
Aynı olanları bulalım.



c) Üstteki resim ile aynı olanı göster.



ç) Üstteki resim ile aynı olanı göster.





Aynı olanları bulalım.



a) Üstteki resim ile aynı olanı göster.



b) Üstteki resim ile aynı olanı göster.



Aynı olanları bulalım.



c) Üstteki resim ile aynı olanı göster.



ç) Üstteki resim ile aynı olanı göster.





Aynı olanları bulalım.



a) Üstteki resim ile aynı olanı göster.



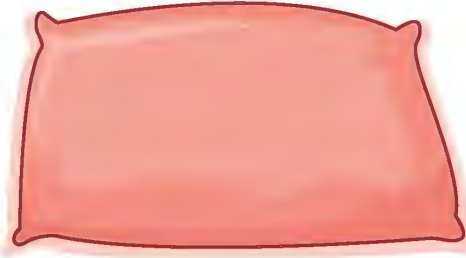
b) Üstteki resim ile aynı olanı göster.




Aynı olanları bulalım.



c) Üstteki resim ile aynı olanı göster.



ç) Üstteki resim ile aynı olanı göster.






Aynı olanları bulalım.



a) Üstteki resim ile aynı olanı göster.



b) Üstteki resim ile aynı olanı göster.




Aynı olanları bulalım.



ç) Üstteki resim ile aynı olanı göster.



ç) Üstteki resim ile aynı olanı göster.





Aynı olanları bulalım.



a) Üstteki resim ile aynı olanı göster.




b) Üstteki resim ile aynı olanı göster.




Aynı olanları bulalım.



c) Üstteki resim ile aynı olanı göster.



ç) Üstteki resim ile aynı olanı göster.





Aynı olanları bulalım.



a) Üstteki resim ile aynı olanı göster.



b) Üstteki resim ile aynı olanı göster.



Aynı olanları bulalım.



c) Üstteki resim ile aynı olanı göster.



ç) Üstteki resim ile aynı olanı göster.





Aynı renk olanları bulalım.



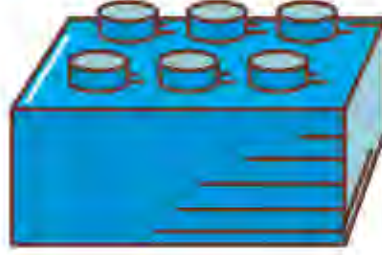
a) Üstteki resim ile aynı olanı göster.




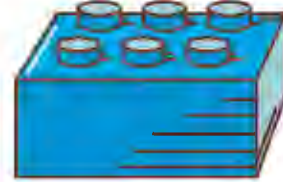

b) Üstteki resim ile aynı olanı göster.



Aynı renk olanları bulalım.



c) Üstteki resim ile aynı olanı göster.



ç) Üstteki resim ile aynı olanı göster.

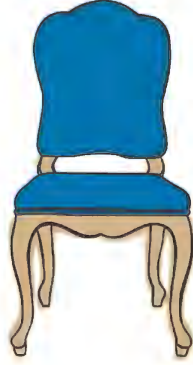




Aynı renk olanları bulalım.



a) Üstteki resim ile aynı olanı göster.



b) Üstteki resim ile aynı olanı göster.



Aynı renk olanları bulalım.



c) Üstteki resim ile aynı olanı göster.



ç) Üstteki resim ile aynı olanı göster.





Aynı renk olanları bulalım.




a) Üstteki resim ile aynı olanı göster.



b) Üstteki resim ile aynı olanı göster.



Aynı renk olanları bulalım.



c) Üstteki resim ile aynı olanı göster.



ç) Üstteki resim ile aynı olanı göster.





Aynı renk olanları bulalım.



a) Üstteki resim ile aynı olanı göster.




b) Üstteki resim ile aynı olanı göster.






Aynı renk olanları bulalım.



c) Üstteki resim ile aynı olanı göster.



ç) Üstteki resim ile aynı olanı göster.






Aynı renk olanları bulalım.



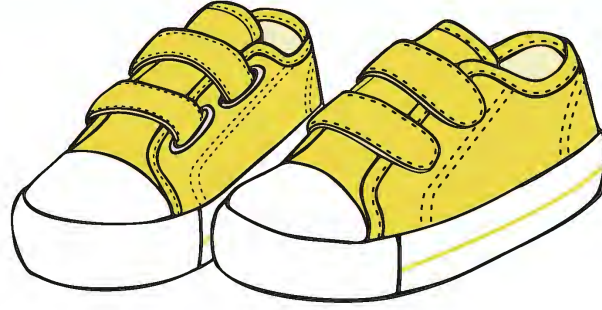
a) Üstteki resim ile aynı olanı göster.



b) Üstteki resim ile aynı olanı göster.



Aynı renk olanları bulalım.



c) Üstteki resim ile aynı olanı göster.



ç) Üstteki resim ile aynı olanı göster.





Aynı renk olanları bulalım.



a) Üstteki resim ile aynı olanı göster.



b) Üstteki resim ile aynı olanı göster.



Aynı renk olanları bulalım.



c) Üstteki resim ile aynı olanı göster.



ç) Üstteki resim ile aynı olanı göster.






Aynı renk olanları bulalım.



a) Üstteki resim ile aynı olanı göster.



b) Üstteki resim ile aynı olanı göster.



Aynı renk olanları bulalım.



ç) Üstteki resim ile aynı olanı göster.



ç) Üstteki resim ile aynı olanı göster.





Aynı renk olanları bulalım.



a) Üstteki resim ile aynı olanı göster.



b) Üstteki resim ile aynı olanı göster.



Aynı renk olanları bulalım.



c) Üstteki resim ile aynı olanı göster.



ç) Üstteki resim ile aynı olanı göster.





Aynı renk olanları bulalım.



a) Üstteki resim ile aynı olanı göster.



b) Üstteki resim ile aynı olanı göster.



Aynı renk olanları bulalım.



ç) Üstteki resim ile aynı olanı göster.



ç) Üstteki resim ile aynı olanı göster.





Aynı büyüklükte olanları bulalım.



a) Üstteki resim ile aynı olanı göster.



b) Üstteki resim ile aynı olanı göster.



Aynı büyüklükte olanları bulalım.



c) Üstteki resim ile aynı olanı göster.



ç) Üstteki resim ile aynı olanı göster.





Aynı büyüklükte olanları bulalım.



a) Üstteki resim ile aynı olanı göster.



b) Üstteki resim ile aynı olanı göster.



Aynı büyüklükte olanları bulalım.



ç) Üstteki resim ile aynı olanı göster.



ç) Üstteki resim ile aynı olanı göster.





Aynı büyüklükte olanları bulalım.



a) Üstteki resim ile aynı olanı göster.



b) Üstteki resim ile aynı olanı göster.



Aynı büyüklükte olanları bulalım.



ç) Üstteki resim ile aynı olanı göster.



ç) Üstteki resim ile aynı olanı göster.





Aynı büyüklükte olanları bulalım.



a) Üstteki resim ile aynı olanı göster.



b) Üstteki resim ile aynı olanı göster.



Aynı büyüklükte olanları bulalım.



ç) Üstteki resim ile aynı olanı göster.



ç) Üstteki resim ile aynı olanı göster.





Aynı büyüklükte olanları bulalım.



a) Üstteki resim ile aynı olanı göster.



b) Üstteki resim ile aynı olanı göster.



Aynı büyüklükte olanları bulalım.



ç) Üstteki resim ile aynı olanı göster.



ç) Üstteki resim ile aynı olanı göster.





Aynı büyüklükte olanları bulalım.



a) Üstteki resim ile aynı olanı göster.



b) Üstteki resim ile aynı olanı göster.



Aynı büyüklükte olanları bulalım.



c) Üstteki resim ile aynı olanı göster.



ç) Üstteki resim ile aynı olanı göster.






Aynı büyüklükte olanları bulalım.



a) Üstteki resim ile aynı olanı göster.



b) Üstteki resim ile aynı olanı göster.




Aynı büyüklükte olanları bulalım.



ç) Üstteki resim ile aynı olanı göster.



ç) Üstteki resim ile aynı olanı göster.





Aynı büyüklükte olanları bulalım.



a) Üstteki resim ile aynı olanı göster.



b) Üstteki resim ile aynı olanı göster.



Aynı büyüklükte olanları bulalım.



ç) Üstteki resim ile aynı olanı göster.



ç) Üstteki resim ile aynı olanı göster.





Aynı büyüklükte olanları bulalım.



a) Üstteki resim ile aynı olanı göster.



b) Üstteki resim ile aynı olanı göster.



Aynı büyüklükte olanları bulalım.



ç) Üstteki resim ile aynı olanı göster.



ç) Üstteki resim ile aynı olanı göster.







Üstteki şekil ile aynı olanı göster.



a) Üstteki görsel ile aynı olanı göster.



b) Üstteki görsel ile aynı olanı göster.




Üstteki şekil ile aynı olanı göster.



ç) Üstteki görsel ile aynı olanı göster.




ç) Üstteki görsel ile aynı olanı göster.






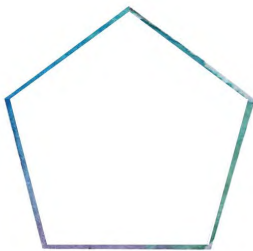
Üstteki şekil ile aynı olanı göster.



a) Üstteki görsel ile aynı olanı göster.




b) Üstteki görsel ile aynı olanı göster.



Üstteki şekil ile aynı olanı göster.



c) Üstteki görsel ile aynı olanı göster.




ç) Üstteki görsel ile aynı olanı göster.






Üstteki şekil ile aynı olanı göster.



a) Üstteki görsel ile aynı olanı göster.




b) Üstteki görsel ile aynı olanı göster.





Üstteki şekil ile aynı olanı göster.



c) Üstteki görsel ile aynı olanı göster.




ç) Üstteki görsel ile aynı olanı göster.









Üstteki şekil ile aynı olanı göster.




a) Üstteki görsel ile aynı olanı göster.





b) Üstteki görsel ile aynı olanı göster.



Üstteki şekil ile aynı olanı göster.



ç) Üstteki görsel ile aynı olanı göster.




ç) Üstteki görsel ile aynı olanı göster.





Üstteki şekil ile aynı olanı göster.



a) Üstteki görsel ile aynı olanı göster.





b) Üstteki görsel ile aynı olanı göster.



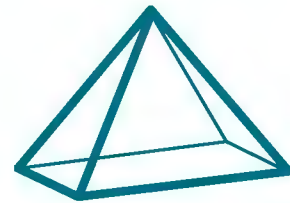

Üstteki şekil ile aynı olanı göster.



c) Üstteki görsel ile aynı olanı göster.



c) Üstteki görsel ile aynı olanı göster.










Üstteki şekil ile aynı olanı göster.



a) Üstteki görsel ile aynı olanı göster.



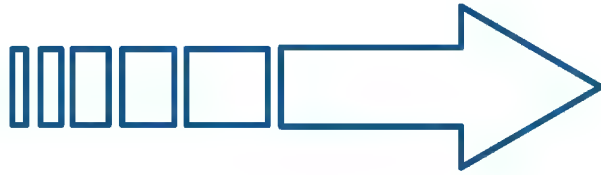
b) Üstteki görsel ile aynı olanı göster.




Üstteki şekil ile aynı olanı göster.



c) Üstteki görsel ile aynı olanı göster.




ç) Üstteki görsel ile aynı olanı göster.

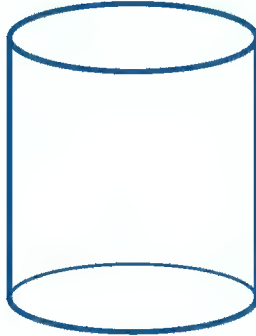


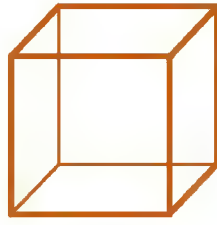







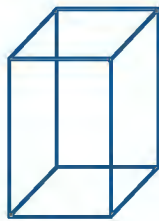

Üstteki şekil ile aynı olanı göster.



a) Üstteki görsel ile aynı olanı göster.




b) Üstteki görsel ile aynı olanı göster.




Üstteki şekil ile aynı olanı göster.



c) Üstteki görsel ile aynı olanı göster.




c) Üstteki görsel ile aynı olanı göster.








Üstteki şekil ile aynı olanı göster.




a) Üstteki görsel ile aynı olanı göster.



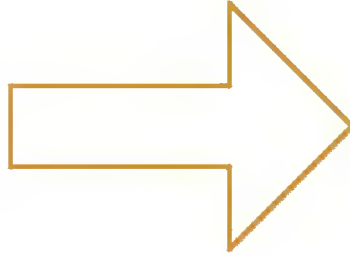
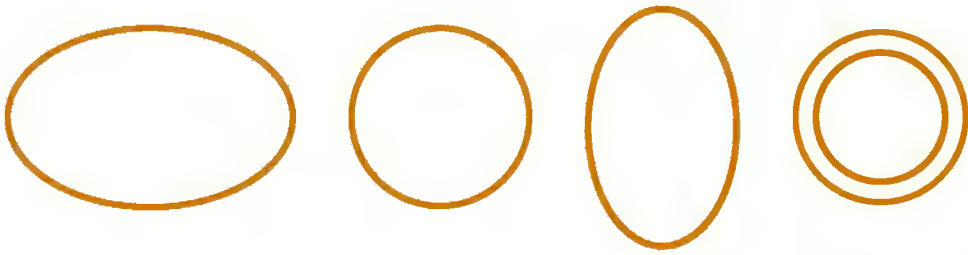
b) Üstteki görsel ile aynı olanı göster.




Üstteki şekil ile aynı olanı göster.



c) Üstteki görsel ile aynı olanı göster.




ç) Üstteki görsel ile aynı olanı göster.













Üstteki şekil ile aynı olanı göster.




a) Üstteki görsel ile aynı olanı göster.






b) Üstteki görsel ile aynı olanı göster.



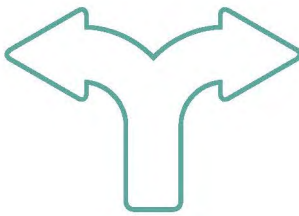
Üstteki şekil ile aynı olanı göster.



c) Üstteki görsel ile aynı olanı göster.



ç) Üstteki görsel ile aynı olanı göster.





Aynı yönde olanları bulalım.



a) Üstteki resim ile aynı olanı göster.



b) Üstteki resim ile aynı olanı göster.



Aynı yönde olanları bulalım.



c) Üstteki resim ile aynı olanı göster.



c) Üstteki resim ile aynı olanı göster.





Aynı yönde olanları bulalım.



a) Üstteki resim ile aynı olanı göster.



b) Üstteki resim ile aynı olanı göster.



Aynı yönde olanları bulalım.



c) Üstteki resim ile aynı olanı göster.



ç) Üstteki resim ile aynı olanı göster.





Aynı yönde olanları bulalım.



a) Üstteki resim ile aynı olanı göster.



b) Üstteki resim ile aynı olanı göster.




Aynı yönde olanları bulalım.



c) Üstteki resim ile aynı olanı göster.



ç) Üstteki resim ile aynı olanı göster.





Aynı yönde olanları bulalım.



a) Üstteki resim ile aynı olanı göster.



b) Üstteki resim ile aynı olanı göster.



Aynı yönde olanları bulalım.



ç) Üstteki resim ile aynı olanı göster.



ç) Üstteki resim ile aynı olanı göster.





Aynı yönde olanları bulalım.



a) Üstteki resim ile aynı olanı göster.



b) Üstteki resim ile aynı olanı göster.



Aynı yönde olanları bulalım.



c) Üstteki resim ile aynı olanı göster.



ç) Üstteki resim ile aynı olanı göster.





Aynı yönde olanları bulalım.



a) Üstteki resim ile aynı olanı göster.



b) Üstteki resim ile aynı olanı göster.



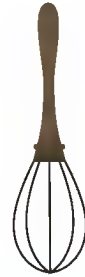
Aynı yönde olanları bulalım.



ç) Üstteki resim ile aynı olanı göster.



ç) Üstteki resim ile aynı olanı göster.





Aynı yönde olanları bulalım.



a) Üstteki resim ile aynı olanı göster.



b) Üstteki resim ile aynı olanı göster.



Aynı yönde olanları bulalım.



c) Üstteki resim ile aynı olanı göster.



ç) Üstteki resim ile aynı olanı göster.





Aynı yönde olanları bulalım.




a) Üstteki resim ile aynı olanı göster.




b) Üstteki resim ile aynı olanı göster.



Aynı yönde olanları bulalım.



c) Üstteki resim ile aynı olanı göster.



c) Üstteki resim ile aynı olanı göster.





Aynı yönde olanları bulalım.



a) Üstteki resim ile aynı olanı göster.




b) Üstteki resim ile aynı olanı göster.



Aynı yönde olanları bulalım.



c) Üstteki resim ile aynı olanı göster.



ç) Üstteki resim ile aynı olanı göster.





Ayrıntısı aynı olanları bulalım.



a) Üstteki resim ile aynı olanı göster.



b) Üstteki resim ile aynı olanı göster.



Ayrıntısı aynı olanları bulalım.



c) Üstteki resim ile aynı olanı göster.



ç) Üstteki resim ile aynı olanı göster.





Ayrıntısı aynı olanları bulalım.



a) Üstteki resim ile aynı olanı göster.



b) Üstteki resim ile aynı olanı göster.



Ayrıntısı aynı olanları bulalım.



c) Üstteki resim ile aynı olanı göster.



ç) Üstteki resim ile aynı olanı göster.





Ayrıntısı aynı olanları bulalım.



a) Üstteki resim ile aynı olanı göster.




b) Üstteki resim ile aynı olanı göster.



Ayrıntısı aynı olanları bulalım.



ç) Üstteki resim ile aynı olanı göster.



ç) Üstteki resim ile aynı olanı göster.






Ayrıntısı aynı olanları bulalım.



a) Üstteki resim ile aynı olanı göster.



b) Üstteki resim ile aynı olanı göster.



Ayrıntısı aynı olanları bulalım.



c) Üstteki resim ile aynı olanı göster.



ç) Üstteki resim ile aynı olanı göster.








Ayrıntısı aynı olanları bulalım.



a) Üstteki resim ile aynı olanı göster.



b) Üstteki resim ile aynı olanı göster.



Ayrıntısı aynı olanları bulalım.



c) Üstteki resim ile aynı olanı göster.



c) Üstteki resim ile aynı olanı göster.





Ayrıntısı aynı olanları bulalım.



a) Üstteki resim ile aynı olanı göster.



b) Üstteki resim ile aynı olanı göster.



Ayrıntısı aynı olanları bulalım.



ç) Üstteki resim ile aynı olanı göster.



ç) Üstteki resim ile aynı olanı göster.

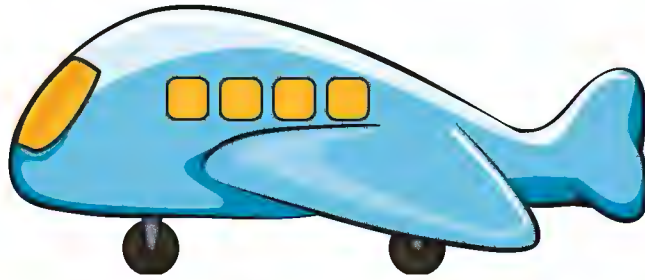




Ayrıntısı aynı olanları bulalım.



a) Üstteki resim ile aynı olanı göster.



b) Üstteki resim ile aynı olanı göster.



Ayrıntısı aynı olanları bulalım.



ç) Üstteki resim ile aynı olanı göster.



ç) Üstteki resim ile aynı olanı göster.





Ayrıntısı aynı olanları bulalım.



a) Üstteki resim ile aynı olanı göster.



b) Üstteki resim ile aynı olanı göster.



Ayrıntısı aynı olanları bulalım.



c) Üstteki resim ile aynı olanı göster.



ç) Üstteki resim ile aynı olanı göster.





Ayrıntısı aynı olanları bulalım.



a) Üstteki resim ile aynı olanı göster.



b) Üstteki resim ile aynı olanı göster.



Ayrıntısı aynı olanları bulalım.



c) Üstteki resim ile aynı olanı göster.



ç) Üstteki resim ile aynı olanı göster.





Eksik ayrıntısı aynı olanları bulalım.



a) Üstteki resim ile aynı olanı göster.



b) Üstteki resim ile aynı olanı göster.



Eksik ayrıntısı aynı olanları bulalım.



ç) Üstteki resim ile aynı olanı göster.



ç) Üstteki resim ile aynı olanı göster.






Eksik ayrıntısı aynı olanları bulalım.



a) Üstteki resim ile aynı olanı göster.



b) Üstteki resim ile aynı olanı göster.



Eksik ayrıntısı aynı olanları bulalım.



c) Üstteki resim ile aynı olanı göster.



ç) Üstteki resim ile aynı olanı göster.





Eksik ayrıntısı aynı olanları bulalım.



a) Üstteki resim ile aynı olanı göster.



b) Üstteki resim ile aynı olanı göster.



Eksik ayrıntısı aynı olanları bulalım.



ç) Üstteki resim ile aynı olanı göster.



ç) Üstteki resim ile aynı olanı göster.






Eksik ayrıntısı aynı olanları bulalım.



a) Üstteki resim ile aynı olanı göster.





b) Üstteki resim ile aynı olanı göster.



Eksik ayrıntısı aynı olanları bulalım.



ç) Üstteki resim ile aynı olanı göster.



ç) Üstteki resim ile aynı olanı göster.





Eksik ayrıntısı aynı olanları bulalım.



a) Üstteki resim ile aynı olanı göster.



b) Üstteki resim ile aynı olanı göster.



Eksik ayrıntısı aynı olanları bulalım.



ç) Üstteki resim ile aynı olanı göster.



ç) Üstteki resim ile aynı olanı göster.





Eksik ayrıntısı aynı olanları bulalım.



a) Üstteki resim ile aynı olanı göster.



b) Üstteki resim ile aynı olanı göster.



Eksik ayrıntısı aynı olanları bulalım.



ç) Üstteki resim ile aynı olanı göster.



ç) Üstteki resim ile aynı olanı göster.






Eksik ayrıntısı aynı olanları bulalım.



a) Üstteki resim ile aynı olanı göster.



b) Üstteki resim ile aynı olanı göster.



Eksik ayrıntısı aynı olanları bulalım.



ç) Üstteki resim ile aynı olanı göster.



ç) Üstteki resim ile aynı olanı göster.






Eksik ayrıntısı aynı olanları bulalım.



a) Üstteki resim ile aynı olanı göster.



b) Üstteki resim ile aynı olanı göster.



Eksik ayrıntısı aynı olanları bulalım.



c) Üstteki resim ile aynı olanı göster.



ç) Üstteki resim ile aynı olanı göster.

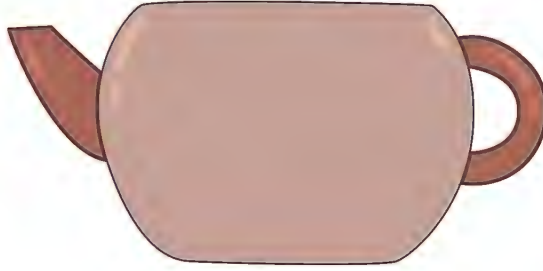





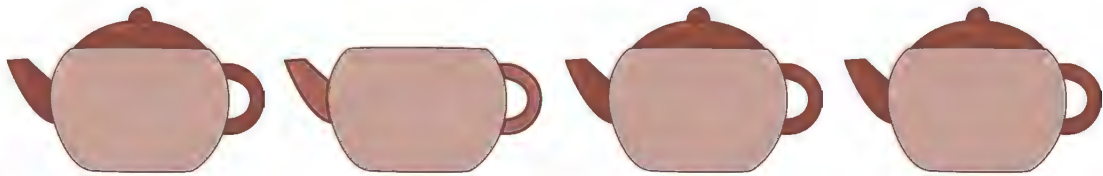
Eksik ayrıntısı aynı olanları bulalım.



a) Üstteki resim ile aynı olanı göster.




b) Üstteki resim ile aynı olanı göster.



Eksik ayrıntısı aynı olanları bulalım.



c) Üstteki resim ile aynı olanı göster.



ç) Üstteki resim ile aynı olanı göster.





Ayrıntısı aynı yönde olanları bulalım.



a) Üstteki resim ile aynı olanı göster.



b) Üstteki resim ile aynı olanı göster.



Ayrıntısı aynı yönde olanları bulalım.



ç) Üstteki resim ile aynı olanı göster.



ç) Üstteki resim ile aynı olanı göster.





Ayrıntısı aynı yönde olanları bulalım.



a) Üstteki resim ile aynı olanı göster.



b) Üstteki resim ile aynı olanı göster.



Ayrıntısı aynı yönde olanları bulalım.



c) Üstteki resim ile aynı olanı göster.



ç) Üstteki resim ile aynı olanı göster.





Ayrıntısı aynı yönde olanları bulalım.



a) Üstteki resim ile aynı olanı göster.



b) Üstteki resim ile aynı olanı göster.



Ayrıntısı aynı yönde olanları bulalım.



c) Üstteki resim ile aynı olanı göster.



ç) Üstteki resim ile aynı olanı göster.






Ayrıntısı aynı yönde olanları bulalım.



a) Üstteki resim ile aynı olanı göster.



b) Üstteki resim ile aynı olanı göster.



Ayrıntısı aynı yönde olanları bulalım.



c) Üstteki resim ile aynı olanı göster.



c) Üstteki resim ile aynı olanı göster.





Ayrıntısı aynı yönde olanları bulalım.



a) Üstteki resim ile aynı olanı göster.



b) Üstteki resim ile aynı olanı göster.



Ayrıntısı aynı yönde olanları bulalım.



c) Üstteki resim ile aynı olanı göster.



ç) Üstteki resim ile aynı olanı göster.





Ayrıntısı aynı yönde olanları bulalım.



a) Üstteki resim ile aynı olanı göster.



b) Üstteki resim ile aynı olanı göster.



Ayrıntısı aynı yönde olanları bulalım.



c) Üstteki resim ile aynı olanı göster.




c) Üstteki resim ile aynı olanı göster.





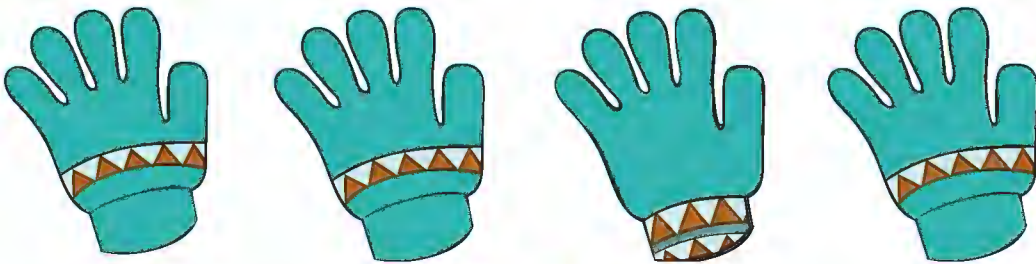
Ayrıntısı aynı yönde olanları bulalım.



a) Üstteki resim ile aynı olanı göster.




b) Üstteki resim ile aynı olanı göster.



Ayrıntısı aynı yönde olanları bulalım.



c) Üstteki resim ile aynı olanı göster.



ç) Üstteki resim ile aynı olanı göster.





Ayrıntısı aynı yönde olanları bulalım.




a) Üstteki resim ile aynı olanı göster.




b) Üstteki resim ile aynı olanı göster.



Ayrıntısı aynı yönde olanları bulalım.



c) Üstteki resim ile aynı olanı göster.




ç) Üstteki resim ile aynı olanı göster.






Ayrıntısı aynı yönde olanları bulalım.



a) Üstteki resim ile aynı olanı göster.



b) Üstteki resim ile aynı olanı göster.



Ayrıntısı aynı yönde olanları bulalım.



c) Üstteki resim ile aynı olanı göster.



ç) Üstteki resim ile aynı olanı göster.





Kaynakça

Doğanay-Bilgi, A. (2016). *Zihinsel Engellilere Okuma Yazma Öncesi Becerilerin Kazandırılması Ders Notları*. Ankara: Gazi Üniversitesi.

Özmen, E. R. (2011). *Zihinsel Engellilere Okuma Yazma Öncesi Becerilerin Kazandırılması Ders Notları*. Ankara: Gazi Üniversitesi.

Lane, K. A. (2012). *Visual Attention in Children: Theories and Activities*. USA: Slack Incorporated.

Levy, A. & Levy K. W. (2012). *Visual Perception and Drawing*. USA: Scholastic Inc.

Millî Eğitim Bakanlığı (2018). *Orta-Ağır Zihinsel Engeli ve Otizm Spektrum Bozukluğu Olan Öğrenciler İçin Okuma-Yazma Dersi Öğretim Programı I. Kademe*. Ankara: Millî Eğitim Bakanlığı Yayınları.

Görsel Kaynakça

Aşağıda numarası belirtilen görseller www.shutterstock.com sitesinden 14.01.2019 tarihinde telifi ödenerek alınmıştır.

sayfa 8	111085691	sayfa 19	100571344	sayfa 55	202673758
sayfa 9	1031845663	sayfa 25	517108243	sayfa 61	202673758
sayfa 10	670220059	sayfa 37	1079420993	sayfa 80	473176225
sayfa 15	385207330	sayfa 49	202673758	sayfa 81	745900624



sayfa 88	135292559	sayfa 114	97458341	sayfa 126	1186628617
sayfa 94	1193269174	sayfa 118	401294548	sayfa 131	397040080
sayfa 107	1176015874	sayfa 123	795008341	sayfa 151	174809606

Fotoğraflar ve vektörel görseller yayınevi arşivinden kullanılmıştır. Çizilen resimler firma ressamı tarafından bu kitap için özel olarak çizilmiştir.

Bu kitaba sığmayan daha neler var!



Karekodu okutun, bu kitapla ilgili EBA içeriklerine ulaşın!



Kişiselleştirilmiş
Öğrenme ve
Raporlama

Animasyonlar,
3B Modeller,
Simülasyon ve Oyunlar

Paylaşım ve
İşbirliği

Ortak / Özel
Takvim

eba
www.eba.gov.tr



**BU DERS KİTABI MİLLÎ EĞİTİM BAKANLIĞINCA
ÜCRETSİZ OLARAK VERİLMİŞTİR.
PARA İLE SATILAMAZ.**

Bandrol Uygulamasına İlişkin Usul ve Esaslar Hakkında Yönetmeliğin Beşinci Maddesinin İkinci Fıkrası Çerçevesinde Bandrol Taşınması Zorunlu Değildir.